

# 4



## Vreemde valuta

Thea wil er even tussenuit. Ze gaat naar een reisbureau en komt thuis met folders van de mooiste, zonnigste en prachtigste bestemmingen. Thuis op de bank droomt ze al weg. Dit kan niet stuk. De volgende dag boekt zij op het reisbureau een droomreis naar Florida.

Na drie maanden is het zover. De koffers worden gepakt. Ze loopt haar huis nog eens door om alles te controleren. Heeft ze haar paspoort? Verzekeringspapieren? Geld? Geld!?

Wat dom. Wat vreselijk dom. Ze heeft geen geld gewisseld. Gelukkig is er op Schiphol een grenswisselkantoor waar ze haar euro's kan omwisselen in dollars.

\$\$\$\$\$\$







## INFO 4.1

- 1** Bij het schrijven van dit boek zijn er twaalf EMU-landen. Landen waar de euro het wettig betaalmiddel is. Misschien hebben in de loop van de tijd nog enkele landen zich aangesloten bij de EMU. Kleur de landen die nu tot de EMU horen in het onderstaande kaartje rood. Geef die landen een nummer. En schrijf de namen van de landen in de onderstaande tabel.




	Land		Land
1		9	
2		10	
3		11	
4		12	
5		13	
6		14	
7		15	
8		16	




**6** Bereken wat je moet betalen voor het kopen van:

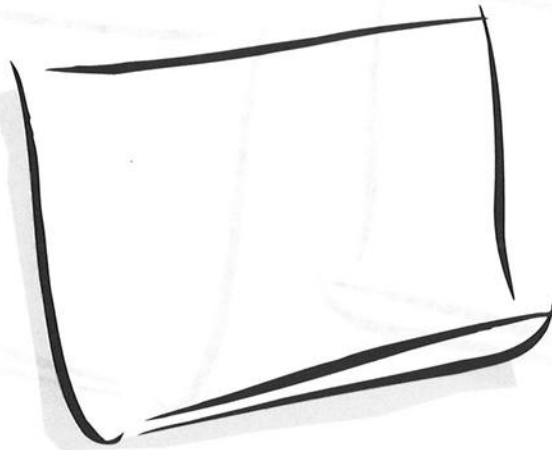
- a USD 100 koers 0,99 - 1,03 (1)
- b GBP 800 koers 1,60 - 1,63 (1)
- c NOK 700 koers 12,35 - 12,40 (100)
- d CHF 10.000 koers 62,27 - 63,40 (100)




a .....



b .....



c .....



d .....

7 Bereken wat je terugkrijgt bij inlevering van:

- a CZK 150 koers 2,75 - 2,81 (100)
- b USD 900 koers 1,- - 1,05 (1)
- c SEK 500 koers 11,65 - 11,82 (100)
- d ILS 300 koers 0,22 - 0,25 (1)

a .....

b .....

c .....

d .....

8 Voor een reis naar Noorwegen denk je NOK 8.000 nodig te hebben. Je koopt de Noorse kronen in Nederland. De koers is 12,40 - 12,55 (100). Hoeveel moet je betalen in euro's?

.....


- 9** Na een vakantie in Engeland heb je nog Engelse ponden 15 over. Je wisselt de Engelse ponden bij je bank voor euro's. De koers is 1,60 - 1,66 (1). Hoeveel krijg je ervoor terug?
- .....

- 10** Voor een zakenreis naar Jeruzalem heeft iemand ILS 700 nodig. In Nederland worden de ILS gekocht. De koers is 0,25 - 0,29 (1). Hoeveel moet hij/zij voor de ILS betalen?
- .....


- 11** Na een zakenreis in Noorwegen heeft Arend nog NOK 450 over. De Noorse kronen worden bij de bank ingewisseld tegen euro's. De koers is 12,35 - 12,60 (100). Hoeveel euro's krijgt Arend terug?
- .....

- 12** Deborah is naar Japan op vakantie geweest. Voordat ze wegging, heeft zij JPY 75.000 bij een Nederlandse bank opgenomen. Bij vertrek was de koers 96,50 - 98,- (10.000). Bij terugkomst had Deborah nog JPY 5.000 over en was de koers 96,- - 97,90 (10.000). Hoeveel heeft dit reisje Deborah gekost?
- .....


- 13** Fuat is op vakantie geweest in Amerika. Voor vertrek heeft hij in Nederland USD 800 gekocht. Bij terugkomst heeft hij nog USD 85 over.  
Koers bij vertrek 0,95 - 1,03 (1).  
Koers bij terugkomst 1,02 - 1,07 (1).  
Voor hoeveel euro's heeft Fuat besteed in Amerika?
- .....



- 14** Meneer Van Dijk heeft in Zweden voor SEK 3.300 een stereo gekocht. Hij pint het bedrag. Een week later wordt in Nederland € 850,- van zijn rekening afgeschreven.  
Welke koers per 100 heeft de bank gebruikt?
- .....



- 15** Holiday Homes te Rotterdam verhuurt vakantiehuisjes in Zwitserland. De huurprijs bedraagt CHF 300 per persoon per week.  
Het gezin Van Buren huurt een huisje voor veertien dagen. Het gezin bestaat uit vader, moeder en een kind. Een paar dagen voor vertrek koopt moeder nog CHF 1.000 voor verblijfskosten.  
Koers 62,10 - 62,90 (100).  
Hoeveel kost deze vakantie in euro's?
- .....



Als je op vakantie gaat naar een land waar je niet met euro's kunt betalen, ga je naar een bank en wissel je euro's om in vreemd geld. Meestal heb je al in je hoofd hoeveel euro's je wilt omwisselen, maar je weet het aantal dollars of Zweedse kronen niet. Nu ga je euro's omrekenen naar vreemde valuta.






## INFO 4.3

Je moet de uitkomsten in vreemde valuta altijd afronden op hele bedragen.


- 16** Schrijf in het onderstaande kader hoe je euro's omrekent in vreemd geld.

- 17** Je gaat op vakantie en wilt euro's omwisselen in vreemd geld. Reken het aantal euro's om in de gevraagde valuta.


a	€	100,-	in USD	koers	0,99 - 1,03	(1)
b	€	800,-	in GBP	koers	1,60 - 1,63	(1)
c	€	700,-	in NOK	koers	12,35 - 12,40	(100)
d	€	1.500,-	in JPY	koers	96,53 - 96,80	(10.000)




a .....



b .....




c .....




d .....

**18** Je bent terug van vakantie. Toen je je vreemde geld inwisselde, kreeg je euro's terug. Bereken hoeveel vreemd geld je hebt ingewisseld.

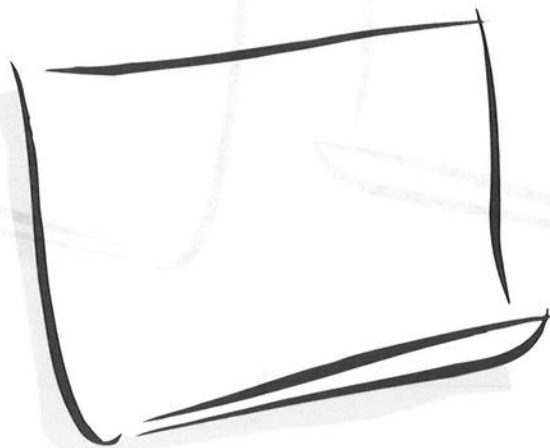
- a € 100,- in USD koers 0,99 - 1,03 (1)
- b € 800,- in GBP koers 1,60 - 1,63 (1)
- c € 700,- in NOK koers 12,35 - 12,40 (100)
- d € 1.500,- in JPY koers 96,53 - 96,80 (10.000)



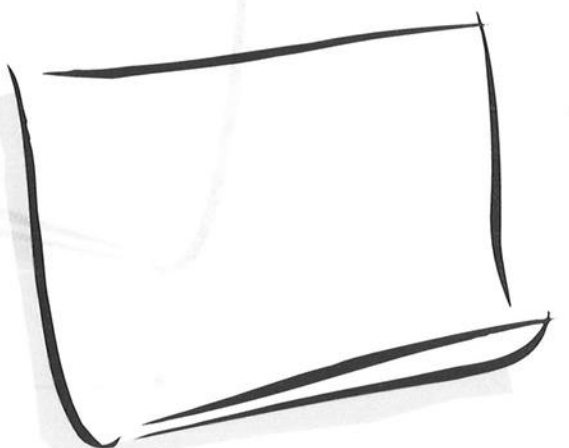
a .....



b .....




c .....




d .....

**19** Reken het aantal euro's om in vreemd geld. Je gaat de vreemde valuta kopen.


- a € 180,- in AUD koers 0,63 - 0,69 (1)
- b € 650,- in ILS koers 0,20 - 0,25 (1)
- c € 2.550,- in PLN koers 22,05 - 24,65 (100)
- d € 5.962,- in JPY koers 62,26 - 62,50 (10.000)




a .....



b .....



c .....




d .....

**20** Joke heeft er jaren voor gespaard, maar nu is het moment toch aangebroken. Ze gaat op vakantie naar haar oom en tante in Australië. Voor vertrek wisselt zij € 500,- om in AUD. Koers 0,63 - 0,69 (1).

a Hoeveel AUD ontvangt zij voor haar € 500,- ?

.....



**b** De vakantie is heel leuk geweest. Zo leuk dat Joke erover nadenkt om zelf ook in Australië te gaan wonen, maar dat zal nog even moeten wachten. Ze is naar de bank geweest en heeft de AUD die ze nog over had omgewisseld in euro's. Van de bank ontving ze uiteindelijk € 225,-. Hoeveel AUD heeft zij ingewisseld? De koers is tijdens haar vakantie niet veranderd.

---

**21** Een Pools bedrijf heeft in Nederland inkopen gedaan. Voor € 10.000,- zijn spullen ingekocht. Met de leverancier is afgesproken dat er betaald mag worden in PLN. Koers 22,05 - 24,65 (100). Hoeveel PLN moet het Poolse bedrijf overmaken naar Nederland?

---

**22** De Nederlandse popster Johnny van de Berg gaat in Engeland een Rolls Royce kopen. Hij wisselt in Nederland € 400.000,- om in GBP. Koers 1,60 - 1,65 (1). In Engeland moet Johnny GBP 270.000 betalen voor de Rolls. Heeft Johnny genoeg euro's omgewisseld?

---

**23** Jarenlang heeft Waël keihard gewerkt en nu heeft hij uiteindelijk € 200.000,- op een bankrekening staan. Zijn hart ligt nog steeds in Marokko. Hij heeft gehoord dat daar een prachtige winkel te koop is voor MAD 2.100.000. Koers 10,30 - 10,80 (100). Kan Waël zijn droom werkelijkheid laten worden?


---

24

Israël is voor veel mensen een vakantie-land waar ze nog eens graag naar toe zouden willen gaan. De familie De Vries gaat dit jaar. Om de eerste kosten in Israël te kunnen betalen wisselt mevrouw De Vries € 300,- in Nederland om in ILS.

Koers 0,21 - 0,24 (1).

Hoeveel ILS zal mevrouw De Vries van de bank ontvangen?



25



Eimar is uit Noorwegen gekomen om in Nederland op vakantie te gaan. Hij heeft NOK 10.000 meegenomen. Op Schiphol wisselt hij het geld om in euro's. Eimar 'vliegt' het hele land door. Van Groningen naar Maastricht en van Arnhem naar Amsterdam. Zijn bezoek aan Volendam zal hij nooit vergeten, want daar ontmoet hij Trijntje, de blonde stoere dochter van een palingvisser. Maar aan al het moois komt een eind. Eimar moet terug naar Noorwegen voor zijn studie. Nadat hij voor Trijntje nog een ring heeft gekocht, neemt hij op Schiphol afscheid. Daar wisselt hij de 80 euro's die hij over heeft weer om in Noorse kronen.

Koers bij aankomst 12,25 - 12,40 (100).

Koers bij vertrek 12,10 - 12,30 (100).






- a Bereken voor Eimar hoeveel zijn vakantie in euro's heeft gekost.
- b Bereken voor Eimar hoeveel de vakantie in Noorse kronen heeft gekost.



a ..... b .....

**26** Zoek op het internet bij één van de banken een koerslijstje op. Maak de laatste vijf opgaven van dit hoofdstuk nog eens maar dan met de koersen van dit lijstje.

.....



.....



- 
- 27** Maak in een spreadsheetprogramma een formule waarmee je vreemde valuta kunt omrekenen in euro's. Sla het op en maak een afdruk.
- 28** Maak in een spreadsheetprogramma een formule waarmee je euro's kunt omrekenen in vreemde valuta.

# 5




## De banken en het betalingsverkeer



INFO 5.1 t/m 5.4

In dit hoofdstuk werk je op een andere manier. Zoek twee klasgenoten uit waarmee je deze opdracht wil maken. Jullie gaan een onderzoekje verrichten naar de betalingsmogelijkheden van dit moment. Daarvoor moeten jullie een bezoek brengen aan:

- een bank
- een bedrijf
- een huishouden



Bij alle drie onderzoek je het volgende:

- Hoe worden uitgaven tot €50,- betaald?
- Hoe worden inkomsten tot € 50,- ontvangen?
- Op welke manieren worden uitgaven tussen de € 50,- en € 2.500,- betaald?